



Adı Soyadı :

Numarası :

Konu: Sıvıları Ölçme Etkinliği 3

Aşağıdaki her grupta verilen kaplardan daha fazla sıvı alanları işaretleyiniz.


☐

☐

☐

☐

☐

☐

☐

☐

☐

☐

☐

☐

☐

☐

☐

Aşağıdaki kapları alacağı su miktarına göre azdan çoğa doğru numara vererek sıralayınız.


☐

☐

☐

☐

☐

☐

☐

☐

☐

☐

☐

☐

☐

☐

☐

☐

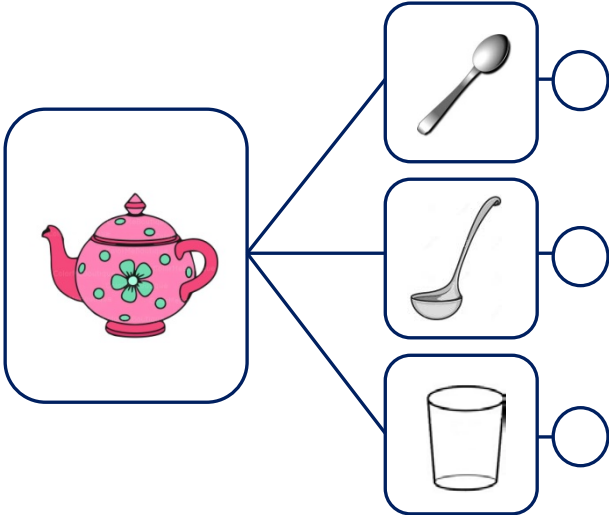
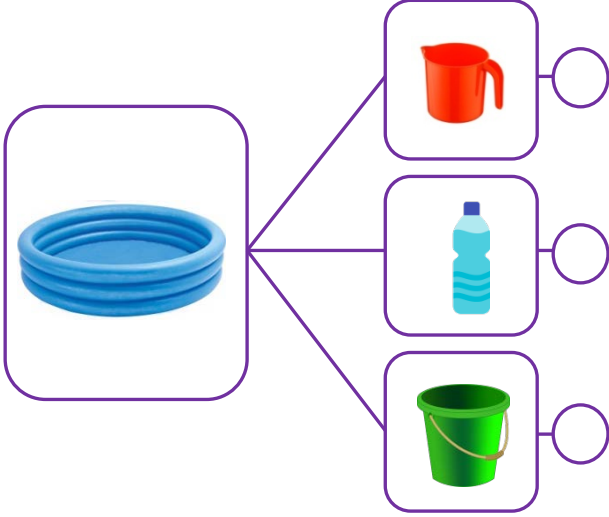
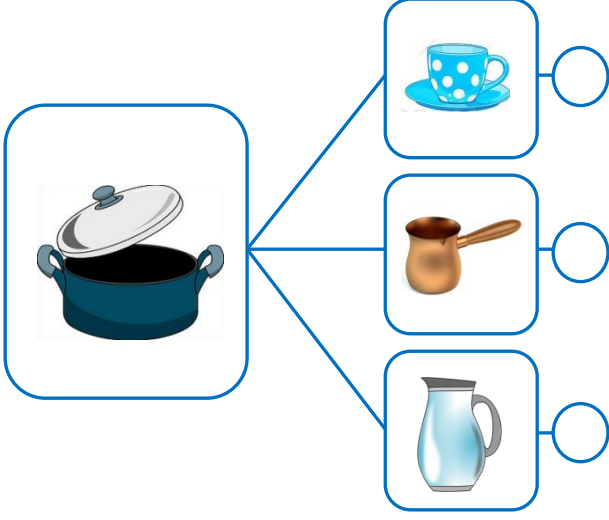
☐

☐

☐

☐

Aşağıdaki kapları doldurmak için kullanılabilecek en uygun kapların kutucuğunu işaretleyelim.



Aşağıda verilen işlemlerin sonuçları birbirine eşit olacak şekilde noktalı yerleri tamamlayınız.

